

2025年度

第1回 一般入試問題

時間25分 50点満点

社 会

社
会

聖学院中学校

1 次の文章は5人の夏休みの思い出を説明したものである。これを読んであとの問いに答えなさい。

(Aさん)

私は羽田空港から飛行機に乗って移動し、①沖縄県で3日間過ごしました。モノレール以外の②鉄道が通っていないので、お父さんが車を運転して色々な場所に行きました。初日は北部にあるやんばる国立公園を散策しました。沖縄島北部は2021年に登録された③世界遺産に含まれていると説明を受けました。多くの動植物が生息していて、天然記念物であるヤンバルクイナも生息しているそうです。他にもフェンスにおおわれていて看板も英語で書かれている場所があったのでお父さんに ^{たず}尋ねたところ、ここがアメリカ軍の基地であると教えてもらいました。また戦争の ^{ひき}悲惨さを伝える施設もいくつか見学しました。これ以上新たな戦争が起こってほしくないと思いました。

(Bさん)

私は、オリンピック日本代表の応援を目的にパリへ行きました。しかし出発日に④台風が近づいていたため、飛行機が欠航となってしまいました。代わりに飛行機を探したのですが翌日は予約でいっぱいだったため、出発できませんでした。その日は成田国際空港近くで観光し、成田山新勝寺という大きな寺に行きました。駅から寺に向かうまでにはたくさんのお店があり、有名なうなぎや、この県の特産物となっているらっかせいを食べました。結局、成田国際空港の近くのホテルに宿泊となりましたが、パリへ出発することができました。

(Cさん)

僕は2024年3月に延伸した新幹線に乗る目的で福井県を訪れました。東京駅から乗車したのですが急な大雨の影響により、途中⑤上越妙高駅で電車が停車してしまいました。そのあと天候が回復したことでなんとか出発し、⑥金沢駅で途中下車し、みんなでおいしい海産物を食べました。

その後、再度新幹線に乗って終点の敦賀駅に向かいました。敦賀駅からさらにバスに乗って移動して、若狭湾のクルージングツアーに参加しました。そこで⑦特有の地形を見学することができました。

(Dさん)

私はゲームのキャラクターのショーが目的で有名な遊園地に行きました。夏休みということもあり、たくさんの人がいてアトラクションに乗るのに2時間近くかかったものもありました。一日中雨が降らなくてよかったです。⑧外国人観光客が多く、次の日に行った場所でも外国語が飛び交っていました。移動中、スマートフォンを見ながら困っている外国人を見かけました。助けてあげ

たいと思いましたが、会話ができるか自信が無くて何もできませんでした。これからもっと英語を勉強して、今度は助けてあげられるようになりたいです。

(Eさん)

僕はおじいちゃんの家がある山形県に家族で行きました。偶然、その期間に有名なお祭りが行なわれていたので、みんなで見に行きました。おじいちゃんに聞いた話によると、このお祭りは⑨東北四大祭りの一つなのだそうです。車で近所を走っていると田んぼが多くみられました。⑩このあたりは大きな平野となっており、米生産がさかんな地域ということでした。他にも山形県にはたくさん⑪特産物があるということです。また、⑫日本三大急流の最上川も流れていて、ここで舟下りを楽しみました。毎日晴れていたのととてもいい思い出になりました。

問1 下線部①について、沖縄県には日本最西端に位置する島が属している。

この島を下から選び、記号で答えなさい。

ア、与那国島 イ、沖ノ鳥島 ウ、南鳥島 エ、礼文島

問2 下線部②に関して、兵庫県にある神戸駅から福岡県にある門司駅を瀬戸内海に沿って結ぶ鉄道路線を何というか、下から選び、記号で答えなさい。

ア、中央本線 イ、東北本線 ウ、山陰本線 エ、山陽本線

問3 下線部③に関して、かつて金の生産がさかんに行なわれたことが認められ、2024年7月に世界文化遺産に登録された新潟県の島を漢字で答えなさい。

問4 下線部④について、台風によって引き起こされる影響について間違っているものを下から選び、記号で答えなさい。

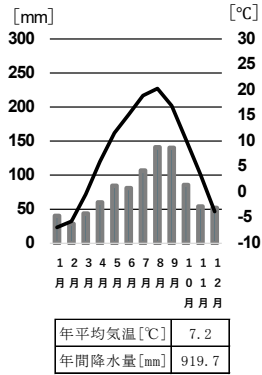
ア、鉄道や航空機などが運航できなくなり、人々の移動が困難となる。

イ、強い風の影響で津波が発生し、沿岸部に大きな被害が発生する。

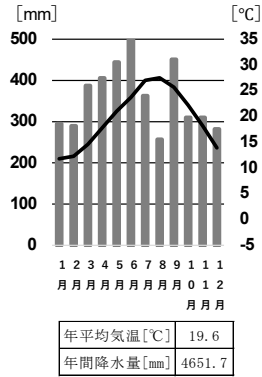
ウ、多くの雨をもたらす場合があり、浸水被害や農産物の生産に悪影響をもたらす。

エ、高潮が発生し、海水が堤防を越えることで浸水被害が発生する。

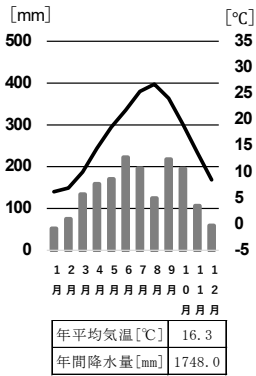
問5 下線部⑤に関して、上越妙高駅のある新潟県の雨温図として正しいものを下から選び、記号で答えなさい。



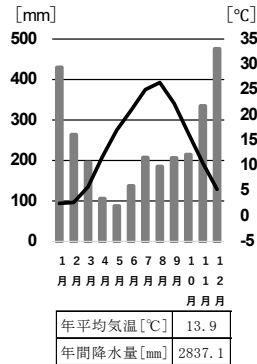
(ア)



(イ)



(ウ)



(エ)

『気象庁』HPより作成

問6 下線部⑥に関して、金沢のある石川県には輪島塗の他にも伝統工業がみられる。下から選び、記号で答えなさい。

ア、加賀友禅 イ、伊勢崎がすり

ウ、久留米がすり エ、小千谷ちぢみ

問7 下線部⑦について、若狭湾は三陸海岸と同じ複雑な海岸を形成している。このような海岸を何というか答えなさい。

問 8 下線部⑧について、山梨県の富士河口湖町は道路に暗幕を張り、富士山を見えなくすることによって、人々の^{たいりゅう}滞留を防ごうとした対策が話題となった。このように訪問客の^{いちじる}著しい増加が地域住民の生活や自然環境などに対して負の影響をもたらしたり、観光客の満足度を著しく低下させるような状況を何というか。下から選び、記号で答えなさい。

- ア、ナショナルトラスト イ、パイロットファーム
ウ、オーバーツーリズム エ、モータリゼーション

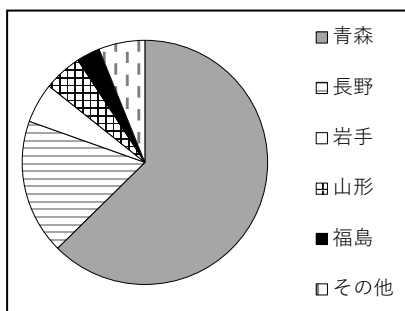
問 9 下線部⑨について、山形県で行なわれる東北四大祭りを下から選び、記号で答えなさい。

- ア、^{ぎおん}祇園祭り イ、^{かんとう}竿灯祭り ウ、七夕祭り
エ、ねぶた祭り オ、花笠まつり

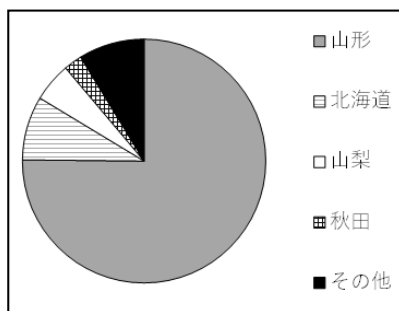
問 10 下線部⑩に関して、この平野を下から選び、記号で答えなさい。

- ア、石狩平野 イ、越後平野 ウ、筑紫平野 エ、庄内平野

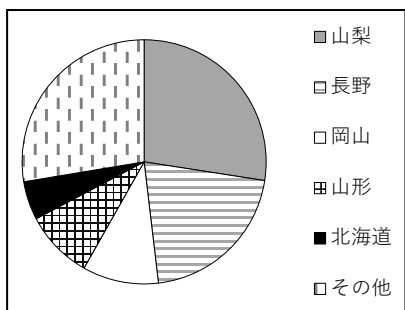
問 11 下線部⑪について、下の図は山形県で生産がさかんな農産物の都道府県別生産割合を示している。ぶどうの図を下から選び、記号で答えなさい。



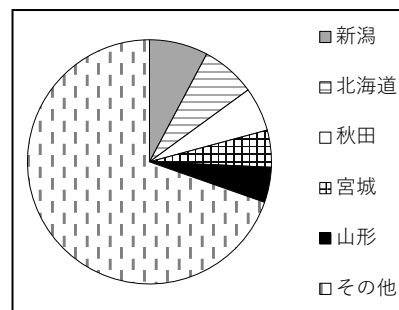
(ア)



(イ)



(ウ)



(エ)

『令和 5 年 作物統計』より作成

問 12 下線部⑫について、日本三大急流に数えられる河川を下から選び、記号で答えなさい。

ア、利根川 イ、北上川 ウ、阿武隈川

エ、球磨川 オ、天竜川

問 13 Bさんがパリへ出発するまで滞在した都道府県を下から選び、記号で答えなさい。なお地図の縮尺は一定ではない。



(ア)



(イ)



(ウ)



(エ)



(オ)

問 14 次の文はそれぞれA～Eさんの思い出をまとめたものである。間違っているものを下から選び、記号で答えなさい。

ア、飛行機に乗って旅行に行ったことがわかるのはAさんとBさんである。

イ、悪天候に影響を受けたのはBさん、Cさん、Eさんである。

ウ、Aさんは旅行先で基地を見たことなどの経験から平和について考える機会を得た。

エ、Dさんは外国人に対して何もできなかった経験を今後の学習に役立てたいと考えている。

オ、CさんとEさんはともに船（舟）に乗って観光しているが、Cさんは海であるのに対し、Eさんは川である。

② 次の文章を読んで、あとの問いに答えなさい。

日本列島が大陸から切り離れて以降は、外の国や地域と交流するために海を渡る必要がありました。古代の貿易は外交と結びつき、倭の^な奴国の王が使者を派遣したり、①邪馬台国の女王卑弥呼が中国へ^{みつ}貢ぎ物を^{けんじょう}献上したことが

記録に残っています。

古墳時代になると、大陸の進んだ文化が日本に伝わるようになりました。孔子の教えである儒教は日本に大きな影響を与え、日本からも遣隋使が派遣されるようになりました。607年に聖徳太子らにより隋へ派遣された(1)は、隋と対等な外交関係を整えて、進んだ大陸文化をさらに日本に持ち帰ろうとしました。隋が減んで唐に代わっても使者の派遣は続けられ、②多くの官人や留学生が海を渡りました。

平安時代になると、日宋貿易が始まりました。さらに室町時代になると明が建国され、日本が貢ぎ物を献上する形で③勘合貿易が行なわれました。

16世紀に入ると④南蛮貿易や朱印船貿易が始まり、それまで接点がほとんどなかった地域とも関わるようになりました。その一方で、豊臣秀吉は1592年に【 A 】、1597年に【 B 】と二度にわたり朝鮮出兵を行ないました。

⑤江戸時代になると、徳川家康は豊臣秀吉が始めた⑥朱印船貿易を受け継ぎ、(2)らを外交顧問としました。しかし、⑦1639年に幕府は貿易や交流を行なう国を限定するなど、鎖国体制がとられるようになり、日本は世界の進歩からは大きく取り残されることとなりました。

ペリーの来航をきっかけに開国した日本は、1858年に日米修好通商条約を結びました。しかし、この条約は日本にとって不平等な内容を含むもので、その後明治政府は⑧条約改正交渉に尽力することとなりました。1911年に条約改正を実現した後は、(3)でアジア市場を中心に輸出が伸びたことで好景気となりましたが、シベリア出兵の影響で物価が上昇し、1918年に米騒動が起こるなど国内の経済は混乱しました。

1929年に世界恐慌が始まりました。日本は、不景気を乗り切る中で⑨軍部が台頭し、太平洋戦争へと突き進みました。戦後は、GHQによる民主化と国の復興が進み、⑩日本は国際的地位の回復と向上に努めました。

問1 文中の(1)にあてはまる人物を漢字で答えなさい。

問2 文中の(2)にあてはまる人物を下から選び、記号で答えなさい。

- | | |
|---------------|---------------|
| ア、フランシスコ＝ザビエル | イ、セオドア＝ルーズベルト |
| ウ、ウィリアム＝アダムズ | エ、ダグラス＝マッカーサー |

問3 文中の(3)にあてはまるものを下から選び、記号で答えなさい。

- ア、日清戦争 イ、第一次世界大戦
ウ、日露戦争 エ、第二次世界大戦

問4 文中の【 A 】・【 B 】にあてはまるものの組み合わせとして正しいものを下から選び、記号で答えなさい。

- ア、A：文永の役 B：弘安の役
イ、A：弘安の役 B：文永の役
ウ、A：慶長の役 B：文禄の役
エ、A：文禄の役 B：慶長の役

問5 下線部①について、このことを記したものを下から選び、記号で答えなさい。

- ア、『漢書』地理志 イ、『後漢書』東夷伝
ウ、『魏志』倭人伝 エ、『宋書』倭国伝

問6 下線部②について、第8回の遣唐使の留学生として唐へ渡ったある人物は、当時の中国の皇帝に仕えて出世したが、帰国する際に船が嵐にあって日本にたどり着くことができず、中国で一生を終えた。この人物を下から選び、記号で答えなさい。

- ア、中臣鎌足 イ、阿倍仲麻呂
ウ、菅原道真 エ、坂上田村麻呂

問7 下線部③について、勘合を用いた目的は「海賊である()と区別し、正式な貿易船であることを証明するため」と考えられる。()にあてはまるものを答えなさい。

問8 下線部④について、この貿易の相手国の組み合わせとして正しいものを下から選び、記号で答えなさい。

- ア、フランス・ロシア イ、ポルトガル・スペイン
ウ、メキシコ・アメリカ エ、清(中国)・朝鮮

問9 下線部⑤について、江戸時代に見られた町人文化について述べた文として正しいものを下から選び、記号で答えなさい。

- ア、束帯そくたいや十二単ひとえなどの服装がみられた。
イ、盲目の琵琶法師によって『平家物語』が広まった。
ウ、観阿弥かんあみ・世阿弥ぜあみの父子が舞台芸能として能を完成させた。
エ、狂歌きょうかや川柳せんりゅうが流行し、社会を風刺ふうしした。

問 10 下線部⑥について、東南アジア各地には、多くの日本人が海外に出かけたことで日本人の居留地が形成された。アユタヤはその一例である。この日本人居留地を何というか、漢字で答えなさい。

問 11 下線部⑦に関して、17世紀に起こったできごとや幕府の政策について述べた文として間違っているものを下から選び、記号で答えなさい。

- ア、天草四郎が率いた島原・天草一揆が起こった。
- イ、オランダ商館が平戸から長崎の出島へ移された。
- ウ、日米和親条約が結ばれ、下田と箱館（函館）が開港された。
- エ、武家諸法度が改められ、参勤交代が義務づけられた。

問 12 下線部⑧について、間違っているものを下から選び、記号で答えなさい。

- ア、岩倉具視を中心とする使節団が、アメリカ・ヨーロッパに派遣された。
- イ、外務卿の井上馨が中心となり、鹿鳴館を作るなどの欧化政策を行なった。
- ウ、外務大臣の陸奥宗光は、イギリスから最初に同意を得ることに成功し、治外法権の撤廃を実現した。
- エ、外務大臣の西郷隆盛は、アメリカから最初に同意を得ることに成功し、関税自主権の回復を実現した。

問 13 下線部⑨について、次のできごとを古い順に並べなさい。

- ア、ハワイ真珠湾への奇襲攻撃
- イ、広島・長崎への原爆投下
- ウ、五・一五事件

問 14 下線部⑩に関して、戦後の首相とその時のできごとの組み合わせとして間違っているものを下から選び、記号で答えなさい。

	首相	できごと
ア	吉田茂	サンフランシスコ平和条約の締結
イ	鳩山一郎	国際連合への加盟
ウ	田中角栄	日中共同声明の調印
エ	竹下登	沖縄返還

3 次の文章を読んで、あとの問いに答えなさい。

法律ができるまでの流れを見てみましょう。法律案は、はじめに内閣や（ 1 ）が提出します。提出された法律案を①国会で議論されます。制定された法律に基づいて行政を行なうのが②内閣です。そのもとでそれぞれの省庁が業務を担います。また、法律に従って③裁判所が裁判を行ないます。法律が憲法に違反していないかをチェックする（ 2 ）立法審査も裁判所の仕事の一つです。このように国の権力を3つに分ける④三権分立の原則が⑤日本国憲法に定められています。

問 1 文中の（ 1 ）にあてはまるものを下から選びなさい。

国会議員 最高裁判所裁判官 都道府県知事 国民

問 2 文中の（ 2 ）にあてはまるものを答えなさい。

問 3 下線部①に関して、特別国会の説明として正しいものを下から選び、記号で答えなさい。

ア、内閣やいずれかの議院の総議員の4分の1以上の要求で開催される。

イ、衆議院の解散中に必要になった際に開催される。

ウ、内閣総理大臣の指名が主な内容である。

エ、毎年1月に開催され、会期は150日である。

問 4 下線部②に関して、正しいものを下から選び、記号で答えなさい。

ア、1964年に東京オリンピック・パラリンピック担当大臣が新しく設置され、現在まで継続している。

イ、東日本大震災をきっかけに、復興庁が新しくつくられた。

ウ、国務大臣は国民による選挙で選ばれる。

エ、国務大臣は全員が国会議員でなければならない。

問 5 下線部③について、現在の日本に存在しないものを下から選び、記号で答えなさい。

ア、地方裁判所 イ、簡易裁判所

ウ、高等裁判所 エ、行政裁判所

- 問6 下線部④について、間違っているものを下から選び、記号で答えなさい。
- ア、権力の暴走を防ぐ機能がある。
 - イ、フランスの思想家モンテスキューが主張した。
 - ウ、国民の基本的人権を制限することが目的である。
 - エ、内閣は国会に対して、衆議院の解散権をもつ。
 - オ、国会は裁判所に対して、裁判官の^{だんがい}弾劾裁判権をもつ。

- 問7 下線部⑤について、日本国憲法の規定として正しいものを下から選び、記号で答えなさい。
- ア、知る権利が憲法に明記されている。
 - イ、地方自治の規定は存在しない。
 - ウ、参議院議員の任期は3年である。
 - エ、納税、勤労、子女に教育を受けさせることが国民の義務である。
 - オ、平等権にもとづき、選挙権に年齢制限は設けない。

2025年度 第1回 一般入試

社会・解答用紙

聖学院中学校

受験番号

座席番号

名前

※

1

問1		問2		問3		問4		問5	
問6		問7		問8		問9		問10	
問11		問12		問13		問14			

2

問1		問2		問3		問4		問5	
問6		問7		問8		問9			
問10		問11		問12					
問13	⇒	⇒	問14						

3

問1		問2		問3			
問4		問5		問6		問7	